


Урок математики во 2 классе

тема урока:

«Длина ломаной»







ДЕЛУ ВРЕМЯ, А ПОТЕХЕ ЧАС.







Какое время показывают часы?





Продолжи ряд чисел, соблюдая закономерность

38 36 34

11 22 33

29 38 47

Проверить



Цветочные часы





Найди расстояние от домика Тёпы до домика Клёпы

Домик Тёпы



10 м

5 м


12 м

Домик Клёпы





Расстояние от домика Тёпы до домика Клёпы



$$TK = 10 \text{ м} + 12 \text{ м} + 5 \text{ м} = 27 \text{ м}$$



Самостоятельная работа



Начерти путь гномика Крохи до солнечной поляны, зная:

Примечание:

Вспомни что такое «схематический чертёж».
Можем ли мы выполнить чертёж в метрах?
Как правильно поступить?

- *В виде какой линии получился путь Крохи?*
- *Из скольких звеньев она состоит?*

Источники информации

<http://www.michellehenry.fr/clocks.jpg> - часы

<http://vglib.ru/source/fr590p/1863.jpg> - деревья

<http://www.lenagold.ru/fon/clipart/alf.html> - домики

http://img0.liveinternet.ru/images/attach/c/1/64/22/64022356_8088218dd24c.jpg -
гном 1

<http://www.millenumalliance.ru/wp-content/uploads/2007/05/clok1.jpg> -
цветочные часы

http://nifiga-sebe.ru/uploads/posts/2009-03/thumbs/1236055621_3.jpg - гном 2